

Noteer niet uitsluitend de antwoorden, maar ook je redeneringen (in correct Nederlands) en de formules die je gebruikt hebt! Maak daar waar nodig een schets van de situatie. Let op het juiste aantal significante cijfers en vergeet de eenheden niet! Maak de opgaven in de juiste volgorde en werk netjes.

Met potlood geschreven tekst wordt niet gecorrigeerd!
Het gebruik van Tipp-Ex is niet toegestaan.

Opgave 1

Tijdens een reddingsoperatie op zee wordt iemand met een helikopter opgehaald. Zie nevenstaande afbeelding. De beide personen met uitrusting hebben een totale massa van 160 kg en de helikopter met inhoud heeft een massa van $3,2 \cdot 10^3$ kg.

Het touw waarmee zij omhoog gehesen worden kan maximaal 3,4 kN hebben voordat het kapot gaat.

Voor extra veiligheid wil men het touw voor maximaal 60% belasten.

Ga ervan uit dat de helikopter gedurende de gehele tijd op dezelfde plaats blijft hangen.

a) **Bereken** de maximale versnelling waarmee de beide personen opgehesen kunnen worden.


De beide personen moeten over een afstand van 20 m worden opgehesen.

Deze beweging gaat eerst vanuit rust eenparig versneld tot de maximale veilige snelheid van 4,0 m/s is bereikt, vervolgens eenparig en ten slotte eenparig vertraagt en wel zodanig dat de eindsnelheid weer 0 m/s is. Zowel tijdens het versnellen als het vertragen is de versnelling respectievelijk vertraging gelijk aan $2,5 \text{ m/s}^2$.

b) **Bereken** hoe lang het ophijzen op deze manier duurt.



Opgave 2

In een botsproef wordt de veiligheid van een auto getest door deze auto op een muur te laten botsen. De auto wordt daarbij van diverse kanten gefilmd. Met behulp van videometen kan dan een (s,t)-diagram gemaakt worden van een gemarkeerd punt  op de auto. Op de uitwerkbijlage is het (s,t)-diagram gegeven van een bepaalde botsproef.

a) **Bepaal** met behulp van de figuur op de uitwerkbijlage de maximale snelheid van de auto tijdens deze botsproef.



In nevenstaande afbeelding is een schets van het (v,t) -diagram van de botsende auto gegeven. In dit diagram zijn zes punten, A tot en met F, met een stip aangegeven.

b) **Leg uit** op welk punt (A, B, C, D, E of F)

- de auto in aanraking komt met de muur,
- de auto de maximale vertraging ondergaat,
- de auto stopt met indeuken.

Er is ook een videometing gemaakt van het hoofd van de pop in de auto.

Het (v,t) -diagram van die meting is op de uitwerkbijlage gegeven.

Volgens wettelijke richtlijnen mag de vertraging van een hoofd nooit groter zijn dan $60g$, waarbij $g = 9,81 \text{ m/s}^2$.

c) **Bepaal** met behulp van de figuur op de uitwerkbijlage of aan de wettelijke richtlijnen voor de vertraging van een hoofd is voldaan.

Op de uitwerkbijlage staan drie stellingen die gaan over een botsproef.

d) Geef per stelling aan of deze stelling waar is of niet waar.

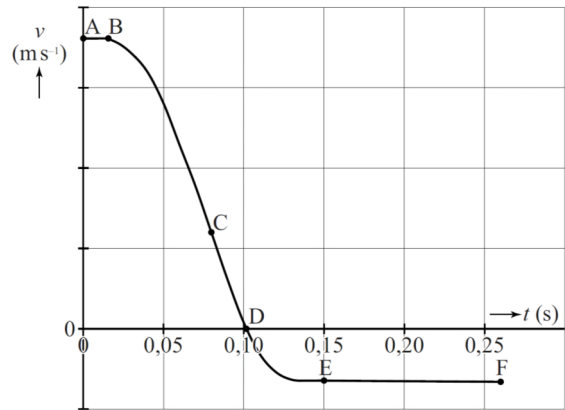
Een autofabrikant heeft ooit een promotiefilmpje gemaakt om de veiligheid van een bepaald model auto aan te tonen. Daarbij viel de auto 15 m verticaal recht omlaag. De foto's in onderstaande afbeelding tonen drie screenshots uit het filmpje.

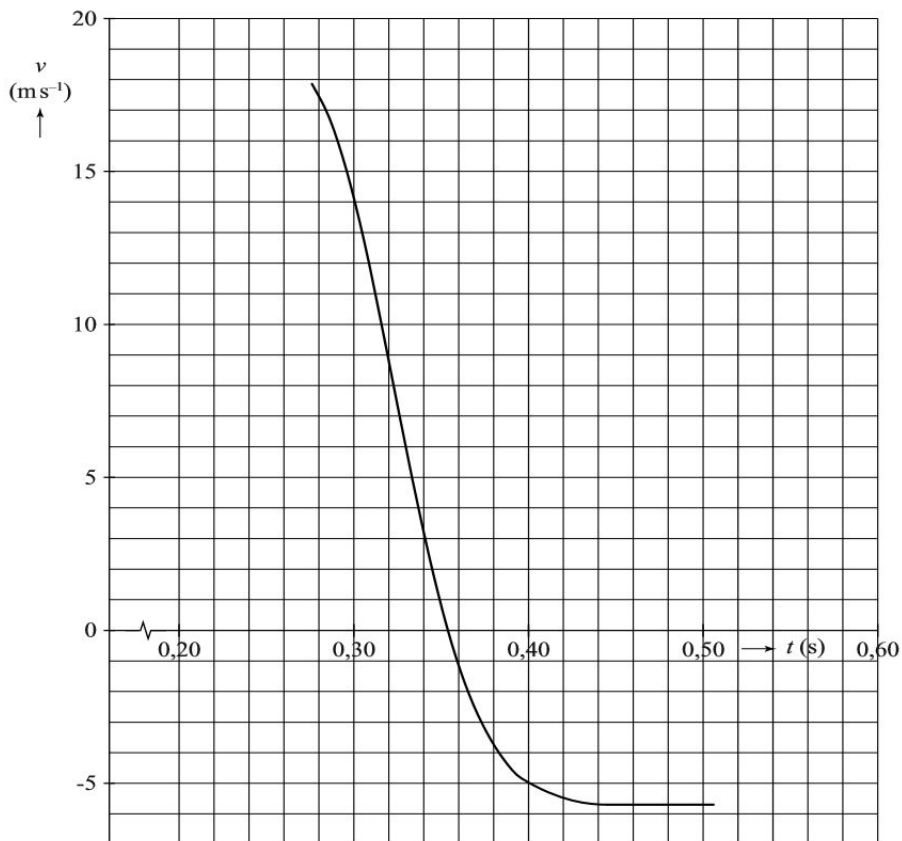
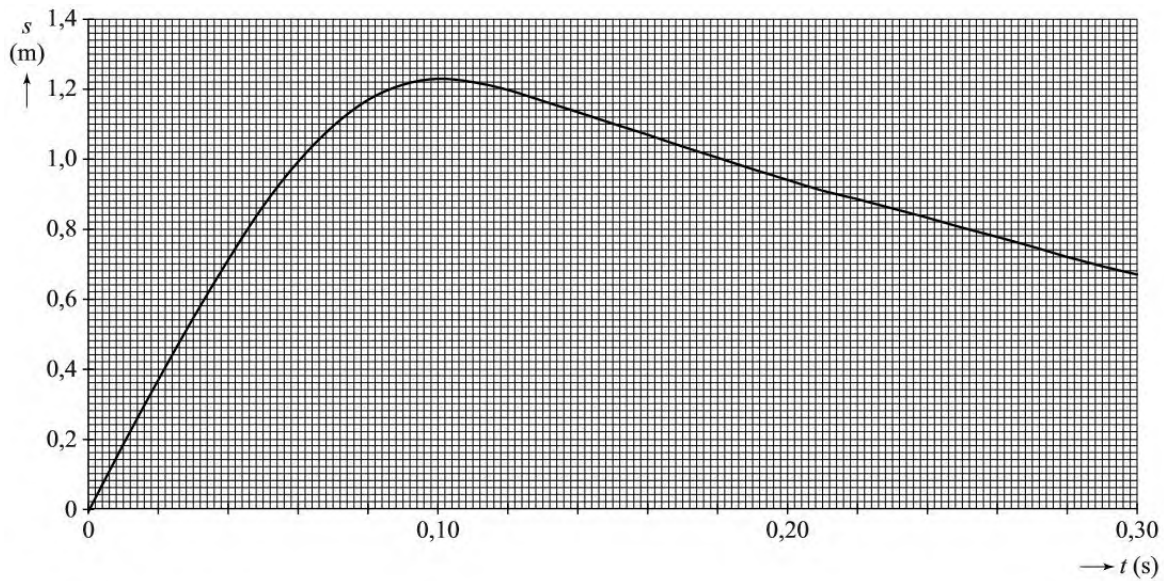


e) **Bereken** de snelheid waarmee de auto de grond raakte.

In de middelste foto van bovenstaande afbeelding werken de normaalkracht F_n en de zwaartekracht F_z op de auto.

f) Is in de middelste foto $F_n < F_z$, $F_n = F_z$ of is $F_n > F_z$? Licht je antwoord toe.





		waar	niet waar
1	De vertraging van de auto en de inzittenden moet zo groot mogelijk zijn zodat de resulterende kracht op de inzittenden zo klein mogelijk wordt.		
2	Een auto moet tijdens een botsing vervormen; een langere botsafstand zorgt namelijk voor een kleinere kracht op de inzittenden.		
3	Bij een twee keer zo grote snelheid moet er twee keer zo veel arbeid verricht worden om tot stilstand te komen.		